





5.1 Les Carreaux Algébriques p. 177



Modélise les suivantes avec carreaux algébriques. Ensuite, copie le modèle sur le papier quadrillé.

1a) $3x + 2$ b) $-x^2 - 2$ c) $2x^2 + 3x - x$




Modélise les suivantes avec carreaux algébriques. Ensuite copie le modèle sur le papier quadrillé.


2a) $-x^2 + 4x - 3$



b) $3x + 4$



c) $-2x - 2$



d) Quelle expression ce modèle de carreaux algébriques représente-t-il?